

PROVES D'ACCÉS A LA UNIVERSITAT

PRUEBAS DE ACCESO A LA UNIVERSIDAD

CONVOCATÒRIA: JUNY 2018	CONVOCATORIA: JUNIO 2018
Assignatura: GEOGRAFIA	Asignatura: GEOGRAFÍA

**BAREM DE L'EXAMEN:**

Pregunta 1<sup>a</sup>-2,5 punts; pregunta 2<sup>a</sup>-2,5 punts; pregunta 3<sup>a</sup>-2,5 punts; pregunta 4<sup>a</sup>-2,5 punts

**BAREMO DEL EXAMEN:**

Pregunta 1<sup>a</sup>-2,5 puntos; pregunta 2<sup>a</sup>-2,5 puntos; pregunta 3<sup>a</sup>-2,5 puntos; pregunta 4<sup>a</sup>-2,5 puntos

**EJERCICIO 1**

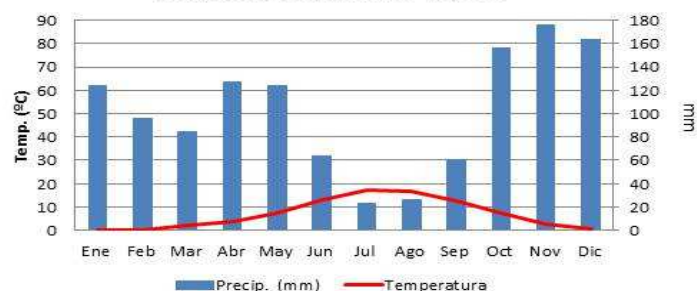
1. Indica para cada uno de los climas que aparecen en el documento 1: (i) la duración del periodo seco estival, (ii) la amplitud térmica anual de cada uno de los climas indicados, y (iii) los climas que registran precipitaciones medias mayores a 1000 mm anuales.
2. Asocia la letra correspondiente a cada uno de los diagramas de Gausson del Documento 1 con uno de los puntos localizados en el mapa del Documento 2 y justifica dicha asignación.
3. Explica las principales características del clima oceánico costero, del clima mediterráneo costero y del clima de montaña. Indica qué climogramas del documento 1 pueden ser identificados en cada uno de estos tipos de climas.
4. Explica los principales factores que intervienen en la distribución de las precipitaciones y de las temperaturas medias en la Península Ibérica y las Baleares.

**EXERCICI 1**

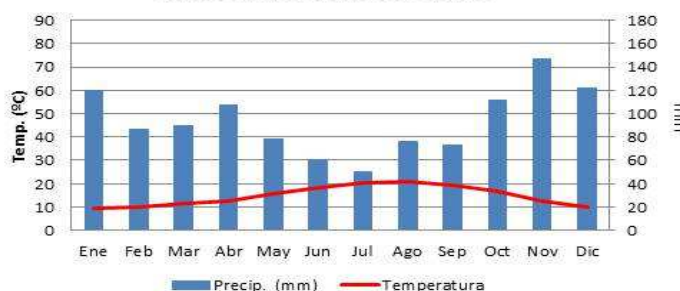
1. Indiqueu per a cadascun dels climes que apareixen en el document 1: (i) la durada del període sec estival, (ii) l'amplitud tèrmica anual de cadascun dels climes indicats, i (iii) els climes que registren precipitacions mitjanes majors de 1.000 mm anuals.
2. Associeu la lletra corresponent a cadascun dels diagrames de Gausson del document 1 amb un dels punts localitzats en el mapa del document 2 i justifiqueu aquesta assignació.
3. Expliqueu les principals característiques del clima oceànic costaner, del clima mediterrani costaner i del clima de muntanya. Indiqueu quins climogrames del document 1 poden identificar-se en cadascun d'aquests tipus de climes.
4. Expliqueu els principals factors que intervenen en la distribució de les precipitacions i de les temperatures mitjanes a la península Ibèrica i les illes Balears.

# DOCUMENT 1 / DOCUMENT 1

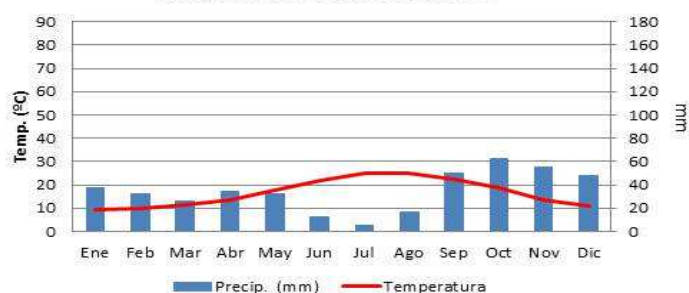
**Diagrama de Gausson. Punto A**



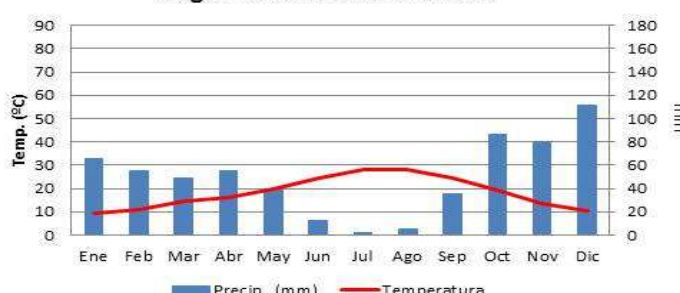
**Diagrama de Gausson. Punto B**



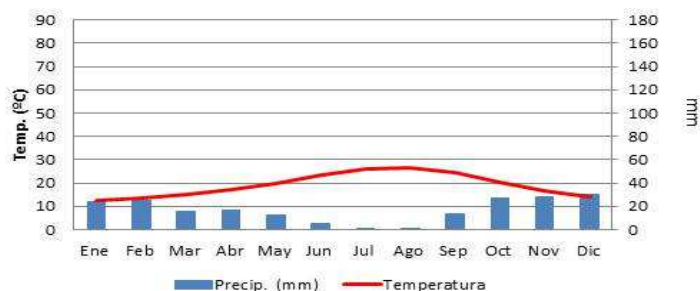
**Diagrama de Gausson. Punto C**



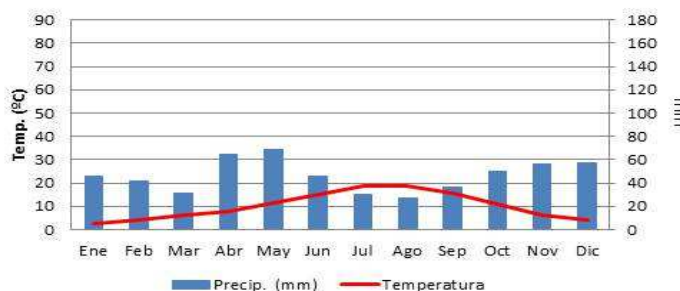
**Diagrama de Gausson. Punto D**



**Diagrama de Gausson. Punto E**



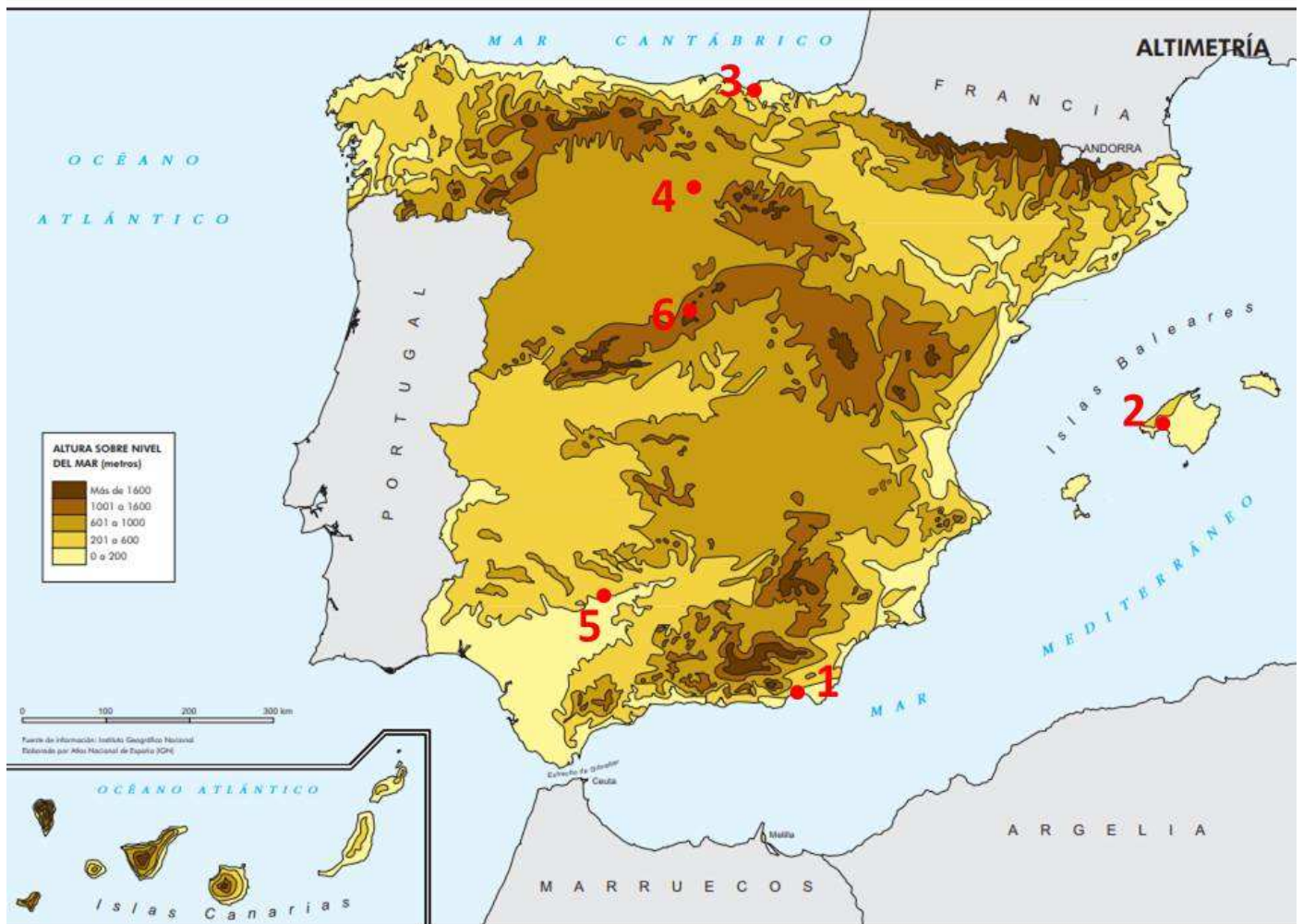
**Diagrama de Gausson. Punto F**



Font: AEMET. Elaboració pròpia

Font: AEMET. Elaboració pròpia

DOCUMENT 2 / DOCUMENT 2



Font: mapa base AGE / elaboració pròpia  
Font: Mapa base AGE/ Elaboració pròpia

PROVES D'ACCÉS A LA UNIVERSITAT

PRUEBAS DE ACCESO A LA UNIVERSIDAD

CONVOCATÒRIA: JUNY 2018	CONVOCATORIA: JUNIO 2018
Assignatura: GEOGRAFIA	Asignatura: GEOGRAFÍA

**BAREM DE L'EXAMEN:**

Pregunta 1<sup>a</sup>-2,5 punts; pregunta 2<sup>a</sup>-2,5 punts; pregunta 3<sup>a</sup>-2,5 punts; pregunta 4<sup>a</sup>-2,5 punts

**BAREMO DEL EXAMEN:**

Pregunta 1<sup>a</sup>- 2,5 puntos; pregunta 2<sup>a</sup>- 2,5 puntos; pregunta 3<sup>a</sup> – 2,5 puntos; pregunta 4<sup>a</sup> – 2,5 puntos.

**EJERCICIO 2**

1. Comente cada una de las fotografías adjuntas en el Documento 1 desde el punto de vista de los factores de localización de cada paisaje industrial, explicando cada uno de los factores que influyen en cada paisaje fotografiado.
2. ¿Con qué tipo de sector industrial se relaciona cada una de ellas? Detalle sus rasgos elementales.
3. Indique el área o eje industrial que mejor se ajustaría a cada una de estas fotografías, y explique sus principales características.
4. ¿Cuáles son los problemas básicos que afectan a la industria española actual?

**EXERCICI 2**

1. Comenteu cadascuna de les fotografies adjuntes en el document 1 des del punt de vista dels factors de localització de cada paisatge industrial, explicant cadascun dels factors que influeixen en cada paisatge fotografiat.
2. Amb quin tipus de sector industrial es relaciona cadascuna d'aquestes fotografies? Detalleu els trets elementals dels sectors en qüestió.
3. Indiqueu l'àrea o eix industrial que millor s'ajustaria a cadascuna d'aquestes fotografies, i expliqueu-ne les principals característiques.
4. Quins són els problemes bàsics que afecten la indústria espanyola actual?



**DOCUMENT 1 / DOCUMENTO 1**

**Imatge 1. Paisatge industrial A**  
*Imagen 1. Paisaje industrial A*



Font/Font: Atlas Nacional d'Espanya

**Imatge 2. Paisatge industrial B**  
*Imagen 2. Paisaje industrial B*



Font/Font: Parc Científic de Barcelona (<http://www.pcb.ub.edu/porta/es/el-pcb>)